

Nombre _____ Dato _____

Houghton Mifflin Matemáticas

Grado K Brain Teasers

Cuenta las horas

Los relojes muestran cuándo hacen los niños cada una de estas cosas, pero los relojes no están en orden. Ellos no corresponden a los dibujos.

Los niños hacen cada una de estas cosas en este orden:

1. Van a la escuela.
2. Almuerzan en la escuela.
3. Salen de la escuela.
4. Cenar a las 5:00.

Escribe la hora debajo de cada reloj.

¿A qué hora harán los niños cada una de estas cosas?

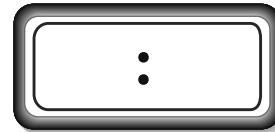

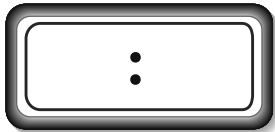
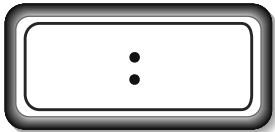

Dibuja una línea desde cada dibujo para emparejarlo con el reloj.

Nombre _____ Dato _____

Houghton Mifflin Matemáticas

Grado K Brain Teasers

Cuenta las horas



Propiedad intelectual © Houghton Mifflin Company. Todos los derechos reservados.